

**Олимпиада школьников по географии**  
**Ответы к заданиям муниципального этапа для 8 класса**  
**в 2023/2024 учебном году**

<b>Ответы к тестовому туру для 8 класса – максимально 30 баллов</b>		
<b>№ вопроса</b>	<b>Вариант ответа</b>	<b>Количество баллов</b>
1.	б) XV – XVI вв	1
2.	а) Васко-да-Гама	0,5
3.	г) радиоуглеродный	1
4.	б) биотит	1
5.	а) сейсмограф	0,5
6.	г) терриконы	1
7.	б) постоянные ветры Земли	1
8.	в) Скифская плита	1
9.	в) зимой над материком Евразия устанавливается азиатский максимум	1
10.	в) Драконовы	1,5
11.	в) +19	1
12.	а) о. Новая Земля	1
13.	г) Г	1
14.	а) река Нигер	1,5
15.	б) Мальдивские	1
16.	а) Охотское б) Карское	1
17.	г) в экваториальных лесах	0,5
18.	в) Калининград г) Приморск	0,5 0,5
19.	б) Западно-Сибирская равнина - Ханты-Мансийский АО - тайга	1
20.	в) 60-65%	1
21.	а) Венесуэла в) Боливия	1 1
22.	г) долина Смерти	1
23.	б) Ассирия	1,5
24.	в) 20-22%	1
25.	а) Махачкала	1
26.	г) пустыни и полупустыни	0,5
27.	в) Гималаи	0,5
28.	б) Алтай	1
29.	а) тип растительности	1
30.	а) песцы, северные олени, брусника, морошка	1

**Ответы к теоретическому туру 8 класса в 2023/2024 учебном году**

**Задание 8.1. Максимальное количество баллов – 15.**

Таблица 8.1

<b>Вопросы</b>	<b>Ответы</b>	<b>Кол-во баллов</b>
1. Название озер	<b>А.</b> Аральское море <b>Б.</b> Танганьика <b>В.</b> Байкал <b>Г.</b> Ньяса	0,5 0,5 0,5 0,5
2. Местоположение озер	<b>А.</b> На границе Казахстана и Узбекистана. <b>Б.</b> Центральная Африка. Берега озера принадлежат четырём странам: Демократической Республике Конго, Танзании, Замбии и Бурунди. <b>В.</b> В центре Азии, в России, на границе Иркутской области и Республики Бурятия. <b>Г.</b> Восточной Африке, заполняет глубокую тектоническую впадину в земной коре между Малави, Мозамбиком и Танзанией.	1 1 1 1
3. Последовательность расположения в зависимости от площади	<b>А, Б, В, Г</b>	2
4. Максимальная глубина	<b>А.</b> 37-40 м. до усыхания. <b>Б.</b> 1471 м. <b>В.</b> 1642 м. <b>Г.</b> 706 м.	0,5 0,5 0,5 0,5
5. Происхождение озерных котловин	<b>А.</b> Затопление котловины тальми водами четвертичных ледников Памира, Тянь-Шаня и Терской Алатау <b>Б.</b> Тектоническое <b>В.</b> Тектоническое <b>Г.</b> Тектоническое	2 1 1 1

**Задание 8.2. Максимальное количество баллов – 12.**

Таблица 8.2

<b>Вопрос</b>	<b>Установите соответствие между понятием и его определением</b>								<b>Кол-во баллов</b>
<b>Понятия (цифры)</b>	1	2	3	4	5	6	7	8	
<b>Определения (буквенные обозначения)</b>	а	г	в	б	з	д	е	ж	За каждый правильный ответ по 1,5

**Задание 8.3. Максимальное количество баллов - 12**




Таблица 8.3

<b>Вопросы</b>	<b>Ответы</b>	<b>Кол-во баллов</b>
<b>Прочтите текст и дайте ответы на вопросы</b>		
1. Английский ученый	Чарльз Дарвин	1
2. Корабль под названием	«Бигль»	1
3. На островах	Острова Зелёного мыса	1,5
4. Острова вулканического происхождения	Канарские острова	2
5. Острова	Галапагосские острова	2
6. Название книги	«Происхождение видов путём естественного отбора»	1,5
7. Острова	Туамоту	1
8. На северном острове	Новая Зеландия	0,5
9. Название континента	Австралия	0,5
10. Самое необыкновенное животное	утконос	1

**Задание 8.4.** Ниже представлены фото животных, которые *официально* считают страны национальными животными. Назовите этих животных и страну (заполните таблицу 8.4). **Максимальное количество баллов – 13.**

Таблица 8.4

<b>Фото животного</b>	<b>Название животного</b>	<b>Название страны</b>	<b>Кол-во баллов</b>
	Бобр	Канада	0,5+0,5=1
	Пальмовый чекан	Доминиканская республика	1,5+1,5=3

	Орел скомарох	Зимбабве	1,5+1,5=3
	Белый орикс	Катар	2+1=3
	Андский кондор	Колумбия	1+2=3

**Задание 8.5. Максимальное количество баллов – 18.**

Рассмотрите внимательно космоснимок (1) и снимок с квадрокоптера (2) территории города и его окрестностей, а также фотографии достопримечательностей (3, 4) и ответьте на следующие вопросы:

1. Как называется город и когда он был образован, на каких реках (А, Б) он расположен? Где реки берут начало и куда впадает река А?
2. Какие функции город выполняет?
3. Как называется достопримечательность под номером 3?
4. Что изображено на фото 4?






Таблица 8.5

Вопрос	Ответ	Кол-во баллов
1	<p>Город называется Абакан</p> <p>Абакан основан в 1931 году.</p> <p>Стоит на реках Енисей и Абакан.</p> <p>Река Абакан берет свое начало на северном склоне Абаканского хребта.</p> <p>Река Енисей начинается от города Кызыла, где сливаются Большой Енисей и Малый Енисей и впадает в Карское море</p>	<p>2</p> <p>1</p> <p>2</p> <p>1</p> <p>1</p>
2	<p>а) Абакан - это административная столица Республики Хакасия, и здесь находятся органы республиканского управления.</p> <p>б) Город имеет разнообразную экономику, включая промышленное производство, сельское хозяйство и торговлю.</p> <p>в) Абакан служит важным транспортным узлом в регионе, соединяя Хакасию с другими регионами Сибири.</p> <p>г) Город привлекает туристов своей природной красотой, культурой и возможностями для активного отдыха.</p> <p>д) Абакан и его окрестности важны для сельского хозяйства, включая производство сельскохозяйственных продуктов.</p>	<p>1</p> <p>1</p> <p>1</p> <p>1</p> <p>1</p>
3	Спасо-Преображенский кафедральный собор	3
4	Стела Лора	3